



EN TOUTE LOGIQUE – N° 1

Quelle carte devrait logiquement remplacer le point d'interrogation ? _____



POINTS DE VUE – N° 1

Laquelle des rangées de livres A à D correspond à la pile de gauche ? _____



ANALOGIES – N° 1

Parmi les mots proposés en bas de page, trouvez celui qui complète chacune des analogies suivantes.

1 soccer but = fléchettes cible

2 boulanger pain = briqueteur _____

3 piscine océan = jardin _____

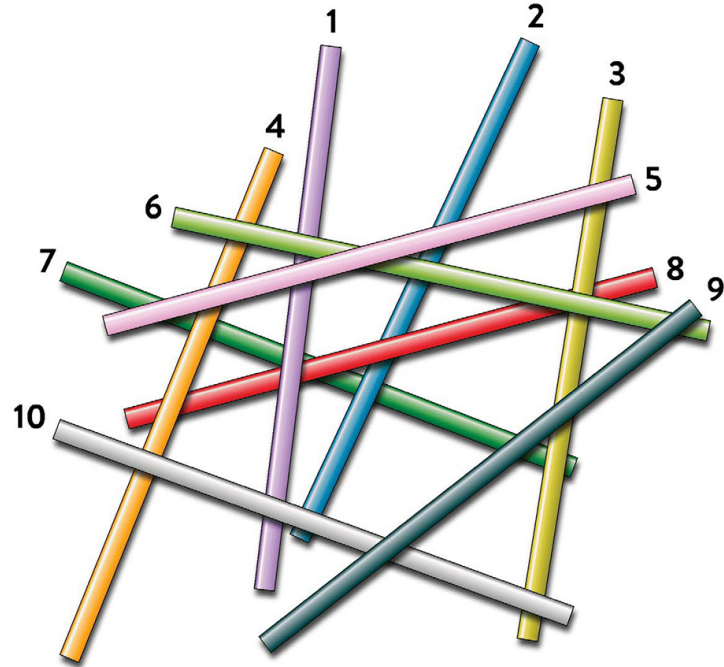
4 chevelure crinière = jambe _____

5 jeudi samedi = avril _____

forêt farine cible
patte dimanche corne juin
mur football

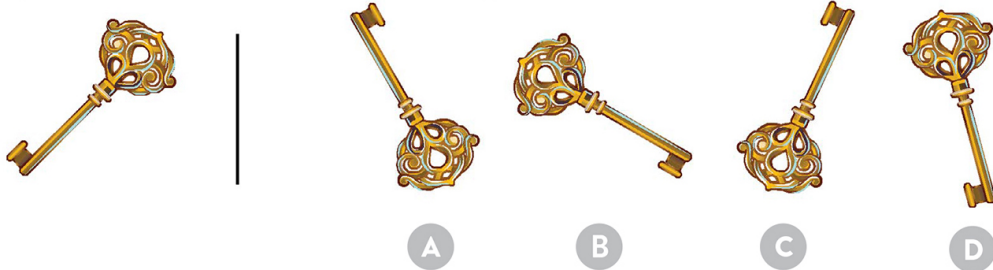
MIKADO – N° 1

S'il fallait retirer les bâtonnets un à un avec précaution, sans déplacer les autres, quels seraient les trois derniers bâtonnets qui seraient retirés ? _____



INTRUS VISUEL – N° 1

Laquelle des illustrations A à D ne peut pas être obtenue par rotation de l'illustration de gauche ? _____



TRIPLETS – N° 1

Toutes ces photos de voyage, sauf une, peuvent être regroupées en triplets (trois ponts, par exemple). Encerclez celle qui ne fait pas partie d'un triplet.

